



CONCURSO PÚBLICO PROFESSOR DO ENSINO BÁSICO, TÉCNICO E TECNOLÓGICO – PEBTT

ÁREA / DISCIPLINA: MEDICINA VETERINÁRIA CIRURGIA DE GRANDES ANIMAIS

INSTRUÇÕES GERAIS

1. A prova terá, no máximo, **4 (quatro)** horas de duração, incluído o tempo destinado à transcrição do gabarito na Folha de Respostas, único documento válido para correção.
2. A pessoa candidata deverá conferir os seus dados pessoais na Folha de Respostas, em especial seu nome e o número do documento de identidade.
3. Não haverá substituição da Folha de Respostas por erro da pessoa candidata ou por qualquer outro dano.
4. A pessoa candidata só poderá se retirar do recinto após **60 (sessenta) minutos**, contados a partir do efetivo início da prova.
5. A pessoa candidata poderá levar o Caderno de Provas com o rascunho do gabarito, no decurso dos últimos **30 (trinta) minutos** do horário previsto para o término da prova.
6. Este caderno contém 50 questões de múltipla escolha, assim distribuídas:
 - Língua Portuguesa: 7 questões (numeradas de 01 a 07);
 - Informática Básica: 6 questões (numeradas de 08 a 13);
 - Legislação Aplicada ao Serviço Público: 6 questões (numeradas de 14 a 19);
 - Didática: 6 questões (numeradas de 20 a 25);
 - Conhecimentos Específicos: 25 questões (numeradas de 26 a 50).
7. Cada questão apresenta 5 alternativas, de (a) a (e). A pessoa candidata deverá lê-las, atentamente, antes de responder a elas.
8. Caso o Caderno não corresponda ao cargo de inscrição, esteja incompleto ou com defeito, a pessoa candidata deverá solicitar ao aplicador, durante os primeiros **20 minutos**, as providências cabíveis.
9. A pessoa candidata deverá entregar ao aplicador a Folha de Respostas.
10. A pessoa candidata passará o Gabarito para a Folha de Respostas, utilizando caneta esferográfica azul ou preta.

ATENÇÃO: FOLHA DE RESPOSTAS SEM ASSINATURA NÃO TEM VALIDADE

A folha de respostas não deve ser dobrada, amassada ou rasurada

Nome da pessoa candidata

Por favor, abra somente quando autorizado.



O GABARITO E O CADERNO DE PROVAS SERÃO DIVULGADOS NO ENDEREÇO ELETRÔNICO:
concurso.fundacaocefetminas.org.br

LÍNGUA PORTUGUESA

AS QUESTÕES DE 01 A 07 SE REFEREM AO TEXTO A SEGUIR.

Não há mais relógios bobos

Outro dia saí de casa sem o relógio e só depois me dei conta. Usuário do objeto desde que o chamavam de "bobo" (por trabalhar de graça), senti-me quase nu no meio da rua. Mas não fez diferença. Um piscar de olhos e lá estava, na esquina, um relógio digital. E, pela multidão de narizes enfiados no celular ao meu redor, imaginei que alguns o estivessem usando para ver as horas.

O relógio foi uma invenção das grandes cidades. O mundo rural não precisa dele – sabe-se a hora pelo sol –, assim como as províncias, com suas distâncias de cobrir a pé. Hoje, nas megalópoles, ficou mais indispensável do que nunca, daí os relógios em toda parte, e tantos que nem os percebemos. Alguns pterodáctilos, como eu, continuam a levar um no pulso e, pior ainda, analógico, de ponteiros, que se movem em direção aos algarismos romanos.

Os ponteiros já tiveram os seus grandes dias. Harold Lloyd pendurou-se neles em seu filme "O Homem-Mosca" (1923) – uma capa da *The New Yorker*, há algum tempo, pôs Lloyd tentando se pendurar nos dígitos. Em outro clássico, "Matar ou Morrer" (1952), os 85 minutos do filme equivalem aos 85 da ação. Os bandidos chegarão pelo trem do meio-dia para matar Gary Cooper, e há muitos relógios em cena para nos lembrar disso. Sem falar no relógio do Capitão Ganchinho, que o crocodilo, seu inimigo, engoliu e o aterroriza com seu tic-tac. No Rio, já não se vê a Rádio Relógio, mas os relógios da Glória, da Mesbla e da Central continuam firmes.

Tudo isso hoje é incompreensível para a Geração Z, que não sabe para que servem as flechinhas rumo àqueles VIII ou XII. O desuso dos relógios datou e sepultou até uma canção dos Mutantes, "O Relógio", cantada por Rita Lee, em 1968: "Meu relógio parou/ Desistiu para sempre de ser/ Antimagnético/ 22 rubis.// Eu dei corda e pensei/ Que o relógio iria viver/ Pra dizer a hora/Não andou e eu chorei.// Dois ponteiros parados a rir/ São à prova d'água/ 22 rubis."

O relógio de ponteiros tem uma vantagem. Nele, o tempo passa mais devagar.

Castro, Ruy. Não há mais relógios bobos. *Folha de S. Paulo*, Opinião, 17 nov. 2025, p.A3. Adaptado

QUESTÃO 01

No início, o autor relata ter saído de casa sem o relógio e sentido falta dele.

Considerando apenas o primeiro parágrafo do texto, é correto afirmar que o principal propósito dessa anedota introdutória é

- a) defender a superioridade dos relógios analógicos em relação aos modelos digitais.
- b) demonstrar que o relógio de pulso continua indispensável, mesmo na era tecnológica.
- c) criticar o uso excessivo de celulares por parte da população das regiões metropolitanas.
- d) recordar, com nostalgia, que o relógio de ponteiros foi esquecido com o passar do tempo.
- e) refletir acerca da perda de relevância e de protagonismo do relógio de pulso na modernidade.

QUESTÃO 02

No trecho "Alguns pterodáctilos, como eu, continuam a levar um [relógio] no pulso e, pior ainda, analógico, de ponteiros [...]”, qual valor semântico correto, nesse contexto, o termo “pterodáctilos” assume?

- a) Emprego metonímico que substitui o objeto “relógio analógico” pelo animal extinto.
- b) Termo técnico da paleontologia utilizado para reforçar a precisão científica do texto.
- c) Uso literal, referindo-se a indivíduos que se assemelham fisicamente ao animal pré-histórico.
- d) Sentido figurado, cujo antônimo aceitável, coerente com a intenção do autor, é “tradicionalistas”.
- e) Polissêmico, pois permite dois significados simultâneos possíveis: dinossauro e pessoa retrógrada.

QUESTÃO 03

Leia os textos.

TEXTO I

“Hoje, nas megalópoles, ficou mais indispensável do que nunca, daí os relógios em toda parte, e tantos que nem os percebemos.”

TEXTO II



Disponível em: <https://digofreitas.com/hq/big-ben/>. Acesso em: 28 nov. 2025.

Informe se é verdadeiro (V) ou falso (F) o que se afirma sobre as variações linguísticas e os tipos de registro.

- () Em ambos os textos, a escolha lexical não tem relação com registros formal e informal, mas apenas com erro gramatical.
- () No Texto I, o emprego de “daí” funciona como conectivo causal em um registro mais informal dentro de um texto essencialmente formal.
- () A expressão “Vamos almoçar?” é um exemplo de linguagem não verbal, pois está relacionada apenas à situação representada pela imagem.
- () Os usos de “daí” e “caramba” ilustram diferentes níveis de formalidade, mas ambos são socialmente legítimos dentro dos contextos em que aparecem.

De acordo com as afirmações, a sequência correta é:

- a) F, V, F, V.
- b) F, F, V, V.
- c) V, F, F, V.
- d) F, V, V, F.
- e) V, F, V, F.

QUESTÃO 04

O texto “Não há mais relógios bobos”, publicado na seção “Opinião” da Folha de S. Paulo, articula elementos argumentativos e referências culturais para comentar a mudança no uso de relógios na sociedade contemporânea.

Considerando a especificidade, as características próprias, o tipo de discurso empregado e sua função dentro do contexto do jornal, é correto afirmar que

- a) configura-se como um **relato memorialístico**, pois retoma lembranças e experiências do passado à maneira de uma autobiografia, com foco na reconstrução de memórias pessoais.
- b) enquadra-se no gênero **resenha crítica**, uma vez que avalia obras cinematográficas e musicais mencionadas, oferecendo ao leitor recomendações e análise dessas produções.
- c) caracteriza-se como um **ensaio literário**, marcado pelo uso de linguagem metafórica, estrutura livre e aprofundamento filosófico sobre o tempo, sem compromisso com o contexto jornalístico.
- d) trata-se de um **artigo de opinião**, pois traz a visão subjetiva do autor, utiliza humor e referências culturais, para sustentar um argumento sobre a perda de relevância dos relógios tradicionais, a fim de influenciar a reflexão do leitor.
- e) classifica-se como uma **crônica narrativa**, pois apresenta um enredo estruturado, com personagens, marcas temporais e conflitos fictícios, cujo objetivo principal é entreter o leitor com uma história inventada.

QUESTÃO 05

Analise as asserções a seguir e a relação proposta entre elas.

- I- Na frase “No Rio, já não se vê a Rádio Relógio, mas os relógios da Glória, da Mesbla e da Central continuam firmes.”, o emprego do pronome “se” proclítico (antes do verbo) é opcional

PORQUE,

- II- especialmente no contexto apresentado e, segundo o que prescrevem as regras da gramática normativa, o referido pronome oblíquo átono pode vir anteposto ou posposto ao verbo.

A respeito das asserções, é correto afirmar que

- a) as duas são falsas.
- b) a primeira é falsa e a segunda é verdadeira.
- c) a primeira é verdadeira e a segunda é falsa.
- d) as duas são verdadeiras e a segunda justifica a primeira.
- e) as duas são verdadeiras, mas a segunda não justifica a primeira.

QUESTÃO 06

Leia o fragmento extraído do texto.

Usuário do objeto desde que o chamavam de "bobo" (por trabalhar de graça), senti-me quase nu no meio da rua. O relógio foi uma invenção das grandes cidades. O mundo rural não precisa dele – sabe-se a hora pelo sol –, assim como as províncias, com suas distâncias de cobrir a pé. Sem falar no relógio do Capitão Gancho, que o crocodilo, seu inimigo, engoliu e o aterroriza com seu tic-tac.

Avalie as justificativas feitas sobre os sinais de pontuação.

- I- A expressão “seu inimigo”, entre vírgulas, constitui um aposto explicativo que caracteriza o crocodilo, justificando a obrigatoriedade do uso da dupla vírgula.
- II- Os travessões podem ser omitidos no período sem alteração sintática, pois introduzem apenas uma enumeração de características, e não uma oração intercalada.
- III- As aspas em "bobo" são empregadas inadequadamente, pois só deveriam ser usadas para citações literais de falas de personagens ou trechos transcritos de outra fonte.
- IV- Os parênteses inserem uma informação explicativa de caráter acessório, que esclarece algo sobre o relógio, podendo ser retirados sem comprometer a estrutura sintática da frase.

Está correto **apenas** o que se afirma em

- a) I e III.
- b) I e IV.
- c) II e IV.
- d) I, II e III.
- e) II, III e IV.

QUESTÃO 07

Leia os textos.

TEXTO I

“Os ponteiros já tiveram os seus grandes dias. Harold Lloyd pendurou-se neles em seu filme “O Homem-Mosca” (1923) – uma capa da The New Yorker, há algum tempo, pôs Lloyd tentando se pendurar nos dígitos. Em outro clássico, “Matar ou Morrer” (1952), os 85 minutos do filme equivalem aos 85 da ação. Os bandidos chegarão pelo trem do meio-dia para matar Gary Cooper, e há muitos relógios em cena para nos lembrar disso.”

TEXTO II



Disponível em: <https://cartum.folha.uol.com.br/quadrinhos/2024/06/07/bicudinho-caco-galhardo.shtml>. Acesso em 28 nov. 2025.

Informe se é verdadeiro (V) ou falso (F) o que se afirma sobre texto e textualidade: coesão, coerência, argumentação e intertextualidade.

- () No Texto I, não há qualquer traço de intertextualidade, pois o autor se limita à descrição objetiva de objetos, sem recorrer a elementos culturais externos ao texto; o Texto II apresenta intertextualidade explícita, com obras cinematográficas do século XX, uma vez que menciona personagens e cenas icônicas relacionadas a relógios antigos.
- () No Texto I, a citação de filmes clássicos rompe a coerência textual, pois introduz informações que não mantêm relação temática com os relógios e o tempo; a referência ao relógio inteligente, no Texto II, compromete a coerência interna do texto, já que mistura tecnologia contemporânea com reflexões pessoais que, no contexto, não se articulam entre si.
- () No Texto I, a coesão é construída pela repetição lexical do campo semântico de relógio, ponteiros, minutos e trem do meio-dia, o que encadeia os exemplos cinematográficos e mantém a progressão temática centrada na função narrativa do tempo; no Texto II, a coesão se dá pela referenciação pronominal (“ele”) que retoma o relógio inteligente, mantendo continuidade no enunciado.
- () No Texto I, constrói-se uma argumentação por exemplificação e apelo cultural, recorrendo a obras consagradas do cinema para sustentar implicitamente a tese de que os relógios tiveram papel fundamental na construção de narrativas e tensões dramáticas; já o Texto II apresenta argumentação irônica, sugerindo uma crítica ao excesso de funcionalidades dos relógios modernos, o que evidencia uma posição avaliativa sobre o consumo tecnológico.

De acordo com as afirmações, a sequência correta é:

- a) F, V, V, F.
- b) V, V, F, V.
- c) F, F, V, V.
- d) V, V, F, F.
- e) V, F, F, V.

INFORMÁTICA BÁSICA

QUESTÃO 08

É correto afirmar que a licença GNU GPL, utilizada pelo Linux, tem como principal finalidade

- a) impedir o uso comercial do software.
- b) garantir que o software permaneça aberto e livre.
- c) restringir a cópia do software.
- d) proteger apenas os interesses das empresas.
- e) tornar o software proprietário.

QUESTÃO 09

O comando correto usado para exibir arquivos, incluindo os ocultos, é

- a) ls
- b) ls -l
- c) ls -a
- d) pwd
- e) cd

QUESTÃO 10

É correto afirmar que o diretório raiz do sistema de arquivos Linux é representado por

- a) /root
- b) /home
- c) /usr
- d) /
- e) /bin

QUESTÃO 11

É correto afirmar que a Unidade Central de Processamento (UCP) é considerada a unidade “ativa” porque

- a) armazena dados permanentemente.
- b) controla apenas dispositivos de entrada.
- c) coordena e executa instruções e operações.
- d) alimenta eletricamente o sistema.
- e) gerencia exclusivamente a memória secundária.

QUESTÃO 12

É correto afirmar que a BIOS é responsável, entre outras funções, por

- a) editar arquivos de configuração do usuário.
- b) testar exclusivamente a memória RAM.
- c) reconhecer dispositivos e inicializar o sistema operacional.
- d) armazenar dados do usuário.
- e) controlar aplicações multimídia.

QUESTÃO 13

Associe as colunas relacionando corretamente a função do programa do LibreOffice ao respectivo programa.

FUNÇÕES

1. Criar documentos de texto, como relatórios e cartas.
2. Criar planilhas e gráficos.
3. Criar apresentações com slides.
4. Criar desenhos vetoriais, fluxogramas e diagramas.
5. Gerenciar bancos de dados com tabelas e consultas.

PROGRAMAS

- () Writer
- () Calc
- () Impress
- () Draw
- () Base

A sequência correta para essa associação é:

- a) 2, 3, 1, 4, 5.
- b) 2, 1, 3, 5, 4.
- c) 1, 3, 2, 4, 5.
- d) 3, 1, 2, 5, 4.
- e) 1, 2, 3, 4, 5.

LEGISLAÇÃO APLICADA AO SERVIÇO PÚBLICO

QUESTÃO 14

Segundo a Constituição da República de 1988 e suas emendas, a lei estabelecerá o plano nacional de educação, de duração decenal, com o objetivo de articular o sistema nacional de educação em regime de colaboração e definir diretrizes, objetivos, metas e estratégias de implementação para assegurar a manutenção e desenvolvimento do ensino em seus diversos níveis, etapas e modalidades, por meio de ações integradas dos poderes públicos das diferentes esferas federativas que conduzam a, **EXCETO**:

- a) formação para o trabalho.
- b) erradicação do analfabetismo.
- c) promoção humanística, científica e tecnológica do País.
- d) concentração do atendimento escolar público à população vulnerável.
- e) estabelecimento de meta de aplicação de recursos públicos em educação como proporção do produto interno bruto.

QUESTÃO 15

O Decreto nº 12.374, de 6 de fevereiro de 2025, dispõe sobre os critérios e os procedimentos a serem observados pelos órgãos e pelas entidades integrantes do Sistema de Pessoal Civil da Administração Federal, para avaliação de desempenho de servidores ocupantes de cargo público efetivo durante o estágio probatório previsto no art. 20 da Lei nº 8.112, de 11 de dezembro de 1990.

A esse respeito, é correto afirmar que

- a) será considerado aprovado na avaliação de desempenho para fins de estágio probatório o servidor que obtiver média igual ou superior a sessenta pontos, calculada com base nos resultados dos quatro ciclos avaliativos, e apresentar o certificado de conclusão de programa de desenvolvimento inicial.
- b) o servidor público aprovado em concurso público e nomeado para cargo de provimento efetivo ficará sujeito ao estágio probatório por período de quarenta e oito meses, contado da data de início do efetivo exercício no cargo.

- c) é vedado o aproveitamento do tempo de serviço público exercido em outro cargo, mesmo que possua a mesma nomenclatura, em quaisquer dos Poderes ou entes federativos, para fins de cumprimento do estágio probatório.
- d) a avaliação dos fatores de desempenho de que trata o decreto será realizada exclusivamente pela chefia imediata do servidor, sendo vedada a avaliação pelos pares integrantes da equipe de trabalho.
- e) é vedado ao servidor em estágio probatório apresentar recurso ou pedido de reconsideração administrativo a cada ciclo avaliativo, ressalvado seu direito de recorrer judicialmente.

QUESTÃO 16

A Lei nº 14.540, de 3 de abril de 2023, institui o Programa de Prevenção e Enfrentamento ao Assédio Sexual e demais Crimes contra a Dignidade Sexual e à Violência Sexual no âmbito da administração pública, direta e indireta, federal, estadual, distrital e municipal.

A partir da norma citada, avalie o que se afirma a seguir.

- I- Qualquer pessoa que tiver conhecimento da prática de assédio sexual e demais crimes contra a dignidade sexual, ou de qualquer forma de violência sexual, tem a faculdade de denunciá-los e de colaborar com os procedimentos administrativos internos e externos.
- II- É um objetivo do Programa de Prevenção e Enfrentamento ao Assédio Sexual e demais Crimes contra a Dignidade Sexual e à Violência Sexual capacitar os agentes públicos para o desenvolvimento e a implementação de ações destinadas à discussão, à prevenção, à orientação e à solução do problema nos órgãos e entidades abrangidos por esta Lei.
- III- Uma das diretrizes estabelecidas na Lei para elaboração de ações e estratégias destinadas à prevenção e ao assédio moral é a divulgação de canais acessíveis para a denúncia da prática de assédio sexual e demais crimes contra a dignidade sexual, ou de qualquer forma de violência sexual, aos servidores, aos órgãos, às entidades e aos demais atores envolvidos.

Está correto **apenas** o que se afirma em

- a) I.
- b) II.
- c) III.
- d) I e II.
- e) II e III.

QUESTÃO 17

A Lei Geral de Proteção de Dados Pessoais (LGPD) dispõe sobre o tratamento de dados pessoais, inclusive nos meios digitais, por pessoa natural ou por pessoa jurídica de direito público ou privado, com o objetivo de proteger os direitos fundamentais de liberdade e de privacidade e o livre desenvolvimento da personalidade da pessoa natural.

Segundo a LGPD, é correto afirmar que a “limitação do tratamento ao mínimo necessário para a realização de suas finalidades, com abrangência dos dados pertinentes, proporcionais e não excessivos em relação às finalidades do tratamento de dados” corresponde ao princípio da

- a) transparência.
- b) necessidade.
- c) adequação.
- d) segurança.
- e) finalidade.

QUESTÃO 18

A Lei nº 11.892/2008 institui a Rede Federal de Educação Profissional, Científica e Tecnológica e cria os Institutos Federais de Educação, Ciência e Tecnologia.

Com base no conteúdo desta Lei, é correto afirmar que os Institutos Federais

- a) possuem natureza jurídica de empresa pública.
- b) terão seus Reitores e Pró-reitores nomeados pelo Presidente da República, para mandato de 4 (quatro) anos.
- c) detêm autonomia didático-pedagógica e disciplinar e possuem vinculação administrativa, patrimonial e financeira a outros órgãos.
- d) têm por finalidade realizar pesquisas aplicadas, estimulando o desenvolvimento de soluções técnicas e tecnológicas, restringindo seus benefícios à Indústria e comércio.
- e) terão autonomia para criar e extinguir cursos, nos limites de sua área de atuação territorial, bem como para registrar diplomas dos cursos por eles oferecidos, mediante autorização do seu Conselho Superior, aplicando-se, no caso da oferta de cursos a distância, a legislação específica.

QUESTÃO 19

A Resolução Nº. 94 - CONSUP/IFAM, de 23 de dezembro de 2015, altera o inteiro teor da Resolução nº 28-CONSUP/IFAM, de 22 de agosto de 2012, que trata do Regulamento da Organização Didático-Acadêmica do Instituto Federal de Educação, Ciência e Tecnologia do Amazonas (IFAM).

Sobre este Regulamento, analise o que se afirma a seguir.

- I- As ofertas educacionais do IFAM serão desenvolvidas por meio da formação inicial e continuada de jovens, adultos e trabalhadores no âmbito da Educação Básica, da Educação Profissional, do Ensino de Graduação e de Pós-Graduação e nas diversas modalidades da Educação.
- II- A Extensão é o processo educativo, cultural e científico que articula o ensino e a pesquisa, viabilizando ações transformadoras entre o Instituto e a sociedade.
- III- O IFAM oferecerá cursos nos diferentes níveis, exclusivamente nas modalidades presencial e semi-presencial.

Está correto **apenas** o que se afirma em

- a) I.
- b) II.
- c) III.
- d) I e II.
- e) II e III.

DIDÁTICA

QUESTÃO 20

Considerando os argumentos apresentados por Bizzo (2022) no Trabalho de Conclusão de Curso *Percepção e observação da didática e ensino na disciplina de Língua Brasileira de Sinais em curso da graduação na UFAM*, espera-se que a disciplina de Libras, ministrada na graduação,

- a) ofereça conhecimento básico-teórico e prático de Libras para favorecer acessibilidade e introdução à conversação, embora com limitações na formação pedagógica aprofundada.
- b) considere, nos conteúdos ministrados, aspectos culturais dos surdos, mas concentrando-se prioritariamente no cumprimento da legislação vigente.
- c) proporcione conhecimentos teóricos, considerando que as atividades práticas serão supridas na aplicação do uso da língua.
- d) atenda irrefutavelmente todas as necessidades de formação pedagógica para o trabalho com surdos no ensino fundamental.
- e) capacite o discente a atuar como docente com alunos surdos em escola inclusiva, com domínio total da Libras.

QUESTÃO 21

Considerando a relação entre Inteligência Artificial (IA), didática e equidade educacional, é correto afirmar que

- a) o uso de IA na educação dispensa políticas públicas de formação docente.
- b) a ampliação da conectividade, por si só, garante qualidade e inclusão educacional.
- c) a digitalização dos processos educacionais reduz automaticamente as desigualdades históricas.
- d) a IA atua de forma isenta, independentemente das condições sociais e educacionais dos estudantes.
- e) as tecnologias devem ser articuladas a práticas pedagógicas e a políticas de acesso para promover inclusão.

QUESTÃO 22

Na perspectiva de Ferreira (2025), o Seminário Interdisciplinar contribui para a formação docente crítica e investigativa na medida em que

- a) é estruturado como atividade formativa complementar, desvinculada das práticas de pesquisa na formação inicial.
- b) organiza o estudo dos textos acadêmicos com foco na compreensão literal, evitando tensões interpretativas no processo formativo.
- c) possibilita a construção coletiva do conhecimento por meio do diálogo teórico entre áreas, sustentado por leitura rigorosa e posicionamento crítico.
- d) assegura a neutralidade epistemológica do licenciando ao orientar a análise dos textos a partir de consensos conceituais previamente definidos.
- e) promove a sistematização homogênea de conteúdos disciplinares, priorizando a convergência terminológica entre diferentes campos do saber.

QUESTÃO 23

Complete corretamente as lacunas do período a seguir.

Na obra *Tecnologias Educacionais: ferramentas disruptivas em favor do ensino (2024)*, destaca-se que o uso pedagógico das tecnologias educacionais exige do professor mais do que domínio técnico, envolvendo _____, _____ e _____, de modo a favorecer aprendizagens significativas e contextualizadas.

A sequência que preenche corretamente as lacunas do período é:

- a) competências digitais / planejamento didático / reflexão crítica sobre a prática
- b) habilidades operacionais / reprodução de conteúdos / neutralidade metodológica
- c) conhecimento instrumental / padronização avaliativa / controle do processo educativo
- d) fluência tecnológica / redução da mediação docente / centralidade dos recursos digitais
- e) domínio das plataformas / flexibilização curricular / ausência de intencionalidade pedagógica

QUESTÃO 24

De acordo com Candau (2003), para uma revisão da prática didática na educação é fundamental superar uma visão estritamente instrumental da didática e compreender que ela envolve, simultaneamente, dimensões técnica, humana e política.

A esse respeito, avalie o que se afirma serem elementos enfatizados pela autora para repensar a didática.

- I- Neutralidade absoluta da ciência e da técnica em educação.
- II- Separação rígida entre competências técnicas e compromisso político.
- III- Análise do contexto educacional concreto e de seus determinantes sociais.
- IV- Consideração integrada das dimensões técnica, humana e política no processo de ensino-aprendizagem.

Está correto **apenas** o que se afirma em

- a) I e II.
- b) I e III.
- c) I e IV.
- d) II e III.
- e) III e IV.

QUESTÃO 25

Segundo Perrenoud (2001), é correto afirmar que o conceito de competência docente está essencialmente relacionado à(ao)

- a) capacidade de aplicar de maneira sistemática os conteúdos previamente definidos, assegurando fidelidade aos programas oficiais, às diretrizes pedagógicas e às orientações metodológicas estabelecidas.
- b) aptidão para mobilizar conhecimentos, habilidades e atitudes, a fim de agir com responsabilidade diante de situações complexas e singulares que caracterizam o trabalho docente.
- c) habilidade de selecionar e empregar estratégias didáticas padronizadas, para garantir uniformidade metodológica e previsibilidade de resultados no processo de ensino.
- d) competência para manutenção de rotinas estáveis, procedimentos previamente definidos e redução da necessidade de decisões imediatas durante a prática pedagógica.
- e) domínio de recursos tecnológicos educacionais, compreendidos como instrumentos para promover inovação pedagógica e responder demandas contemporâneas.

CONHECIMENTOS ESPECÍFICOS

QUESTÃO 26

O uso de energia térmica é eficiente para promover esterilização de material cirúrgico.

Sobre as propriedades e as características do uso de calor seco em estufa e do calor úmido em autoclave, é correto afirmar que

- a) o calor seco esteriliza por desidratação, enquanto o calor úmido esteriliza por oxidação.
- b) a saturação de água e as temperaturas superiores produzidas pelo vapor pressurizado são os fatores que determinam esterilização mais rápida na autoclave em comparação com a estufa.
- c) os volumes a serem esterilizados em autoclave devem ser posicionados em contato uns com os outros, para facilitar o processo de disseminação da energia térmica.
- d) os príons são mais resistentes aos processos convencionais de esterilização, contudo não existe qualquer risco de transmissão de doenças a eles relacionadas por material cirúrgico contaminado.
- e) autoclaves modernas, dotadas de mecanismo de vácuo, são capazes de esterilizar materiais cirúrgicos e implantes, de forma totalmente eficiente e segura, em ciclos térmicos inferiores a 5 minutos.

QUESTÃO 27

Os métodos químicos de esterilização são muito utilizados em Medicina Veterinária para materiais que não suportam altas temperaturas.

Sobre seu uso e suas propriedades, é **INCORRETO** afirmar que

- a) sua eficácia é limitada em materiais com resíduos orgânicos.
- b) o óxido etileno é agente alcalinizante, que age inativando proteínas, DNA e RNA.
- c) o óxido etileno é eficaz contra formas vegetativas de bactérias, fungos, vírus e esporos.
- d) a formalina, solução de formaldeído e álcool, é eficiente em promover esterilização, mas está em desuso por sua ação carcinogênica.
- e) agentes líquidos são os mais indicados para esterilização de endoscópios flexíveis, havendo vários produtos comerciais eficazes para esse fim.

QUESTÃO 28

Avalie o que se afirma sobre pinças cirúrgicas e suas finalidades.

- I- A pinça de Brown-Adson tem duas fileiras de dentes, sendo útil na sutura de tecidos delicados.
- II- A pinça de Allis tem de 4 a 6 dentes e é muito usada para aproximar a pele a ser suturada.
- III- As pinças Kelly e Crile são hemostáticas, sendo que a primeira possui mais ranhuras que a outra.
- IV- Uma pinça hemostática adequada para pedículos é a Rochester-Carmalt, que possui ranhuras longitudinais.
- V- A pinça hemostática Kocher é considerada traumática.

Está correto **apenas** o que se afirma em

- a) I, IV e V.
- b) II e V.
- c) I, II e IV.
- d) II, III e V.
- e) I, III e V.

QUESTÃO 29

Sobre fios cirúrgicos, associe corretamente o material a sua respectiva característica.

MATERIAIS

1. Ácido poliglicólico
2. Categute cromado
3. Polidioxanona
4. Polipropileno

CARACTERÍSTICAS

- () Multifilamento, perde 65% de tensão com 3 semanas no tecido.
- () Monofilamento, não absorvível.
- () Multifilamento, absorção por fagocitose.
- () Monofilamento, perde 50% de tensão com 6 semanas no tecido.

A sequência correta para essa associação é:

- a) 2, 1, 4, 3.
- b) 1, 4, 2, 3.
- c) 1, 4, 3, 2.
- d) 2, 3, 4, 1.
- e) 2, 4, 1, 3.

QUESTÃO 30

O choque pode ser definido como uma série de eventos patológicos que se inicia quando as células ou tecidos orgânicos entram em déficit energético devido à redução de fluxo sanguíneo periférico por variações no débito cardíaco e volume sistólico.

Sobre fatores determinantes no débito cardíaco, é correto afirmar que

- a) o aumento da pré-carga ventricular contribui para a redução do débito cardíaco.
- b) a redução da contratilidade do miocárdio contribui para o aumento do débito cardíaco.
- c) a taquicardia contribui para o aumento da pré-carga ventricular.
- d) o aumento da resistência vascular periférica contribui para o aumento da pós-carga ventricular.
- e) a vasodilatação periférica contribui para o aumento da pré-carga ventricular.

QUESTÃO 31

A síndrome da disfunção de múltiplos órgãos (MODS) é complicação importante em casos de equinos submetidos a cirurgias de abdome agudo.

São sinais de MODS, nesses casos, **EXCETO**:

- a) trombocitopenia.
- b) refluxo gastrointestinal.
- c) azotemia.
- d) hipertensão arterial.
- e) laminite.

QUESTÃO 32

Sobre melanoma em equinos, associe corretamente o tipo à sua respectiva característica histopatológica, clínica ou prognóstica.

TIPOS

- 1. Nevo melanocítico
- 2. Melanoma dérmico
- 3. Melanomatose dérmica
- 4. Melanoma maligno

CARACTERÍSTICAS

- () Tumor raro, frequentemente invasivo, com alta taxa de recorrência após excisão cirúrgica e prognóstico desfavorável.
- () Tumor composto por melanócitos maiores e pleomórficos, com aumento de figuras mitóticas e presença de células binucleadas.
- () Forma caracterizada por múltiplos melanomas confluentes, cujo risco aumenta com a idade e está associado à maior probabilidade de metástases.
- () Lesão geralmente benigna, formada por células dendríticas pequenas e homogêneas, sem mitoses visíveis, localizada na derme profunda.

A sequência correta para essa associação é:

- a) 4, 3, 2, 1.
- b) 1, 4, 3, 2.
- c) 4, 1, 3, 2.
- d) 2, 3, 4, 1.
- e) 4, 2, 1, 3.

QUESTÃO 33

Avalie o que se afirma sobre carcinoma de células escamosas ocular em bovinos.

- I- Esses tumores tendem a ser localmente invasivos e podem metastatizar, especialmente em casos negligenciados, razão pela qual o tratamento precoce e agressivo é fundamental para evitar a perda do animal.
- II- Lesões palpebrais pequenas, com menos de 2 cm de diâmetro, permitem uma ampla gama de opções terapêuticas, incluindo criocirurgia, cirurgia convencional, radioterapia e imunoterapia.
- III- Massas palpebrais grandes, superiores a 5 cm de diâmetro, apresentam maior taxa de sucesso terapêutico, uma vez que a remoção extensa do tecido reduz o risco de exposição ocular.
- IV- Tumores localizados no canto medial do olho são considerados perigosos, pois necessitam de pequena progressão ao longo do ligamento orbital medial para invadir a órbita óssea.
- V- A hipertermia por radiofrequência é indicada principalmente para grandes lesões profundas, uma vez que sua penetração térmica ultrapassa 2 cm de profundidade tecidual.

Está correto **apenas** o que se afirma em

- a) II, III e IV.
- b) I, III e IV.
- c) II, IV e V.
- d) I, II e IV.
- e) I, III e V.

QUESTÃO 34

As claudicações figuram entre as principais causas de perdas econômicas e de prejuízos ao bem-estar de vacas leiteiras e estão relacionadas a várias afecções.

Associe corretamente o tipo de afecção ao respectivo agente infeccioso potencialmente relacionado a ela.

TIPOS

1. Dermatite digital ou verruga pilosa.
2. Doença da linha branca com formação de abscesso.
3. Flegmão interdigital.

AGENTES

- () *Arcanobacterium pyogenes*
- () *Treponema sp*
- () *Bacteroides melaninogenicus* e *Fusobacterium necrophorum*

A sequência correta para essa associação é:

- a) 1, 2, 3.
- b) 1, 3, 2.
- c) 2, 1, 3.
- d) 2, 3, 1.
- e) 3, 2, 1.

QUESTÃO 35

O tipo de conformação está amplamente associado com sobrecargas e interferências no sistema locomotor, predispondo claudicações em equinos.

Sobre tais associações, é **INCORRETO** afirmar que

- a) membros torácicos mais fechados junto ao tórax e mais abertos junto aos cascos (base larga) resultam em sobrecarga medial de sua parte distal.
- b) cavalos com base larga nos torácicos, mas com cascos apontados para dentro (periquitos), tendem a mover os membros para fora durante o avanço da passada, o que aumenta o risco de interferência com o membro pélvico do mesmo lado.
- c) o carpo valgo, quando em grau leve, reduz a chance de sinovite e pequenas fraturas em lasca (chip) em sua própria estrutura.
- d) o carpo varo, quando combinado com cascos periquitos, predispõe ocorrência de desmíte no ramo medial do suspensório do boleto.
- e) cavalos com cascos torácicos apontados para fora tendem a mover os membros para dentro durante o avanço da passada, o que aumenta o risco de interferência com o membro torácico contralateral.

QUESTÃO 36

Os desvios angulares valgo e varo, quando em potros jovens e em graus leve e moderado, podem ser tratados em condições de campo por meio de elevação e transecção periostal.

Informe se é verdadeiro (V) ou falso (F) o que se afirma sobre detalhes dessas cirurgias.

- () O acesso cirúrgico para o tratamento de carpo valgo é feito no aspecto distolateral do rádio, proximal à placa epifisária.
- () O acesso cirúrgico para o tratamento de tarso valgo é feito sobre o maléolo lateral da tíbia, distal à placa epifisária.
- () O acesso cirúrgico para o tratamento de desvios angulares metacarpofalangeanos é na parte côncava do membro, com incisão de pele proximal à placa epifisária do terceiro metacarpo.
- () O acesso cirúrgico para o tratamento de desvios angulares metatarsofalangeanos é na parte côncava do membro, com incisão de pele distal à placa epifisária do terceiro metatarso.
- () Em certos casos de desvios angulares, o procedimento pode ser realizado na falange proximal, com acesso distal à placa epifisária proximal.

De acordo com as afirmações, a sequência correta é:

- a) V, F, V, F, V.
- b) V, V, F, V, V.
- c) F, V, F, V, F.
- d) F, F, V, F, F.
- e) V, V, V, V, F.

QUESTÃO 37

A ilustração a seguir se refere a um quadro de claudicação caracterizado por um movimento involuntário de flexão exagerada do membro pélvico esquerdo, cujo boleto chega a tocar a parede abdominal quando em movimento.



Fonte: www.adapta.org. Acesso em: 15 dez. 26.


Com base na imagem e na breve descrição, é possível estabelecer uma forte suspeita sobre a afecção causadora dos sinais clínicos.

Caso os exames adicionais confirmem essa suspeita, qual é o procedimento cirúrgico mais indicado?

- a) Desmotomia do check inferior.
- b) Desmotomia do patelar medial.
- c) Tenotomia do digital flexor profundo.
- d) Tenotomia do digital flexor superficial.
- e) Tenectomia do extensor digital lateral.

QUESTÃO 38

A ilustração a seguir demonstra uma vaca parida com dificuldade de caminhar, mostrando incapacidade intermitente de flexionar o membro pélvico esquerdo quando em movimento livre ou puxada pelo ordeñador. Durante esses episódios, ela arrasta a pinça do casco, que já apresenta sinais de desgaste. Eventualmente, ao forçar o avanço cranial do membro, a flexão se completa de forma abrupta.



Fonte: www.adapta.org. Acesso em: 15 dez. 26.

Com base na imagem e nos sintomas, já é possível estabelecer uma forte suspeita sobre a afecção em curso.

Caso os exames adicionais confirmem essa suspeita, qual é o procedimento cirúrgico mais indicado?

- a) Desmotomia do check inferior.
- b) Desmotomia do patelar medial.
- c) Tenotomia do digital flexor profundo.
- d) Tenotomia do digital flexor superficial.
- e) Tenectomia do extensor digital lateral.

QUESTÃO 39

A ilustração a seguir se refere ao início de um procedimento de celiotomia exploratória em equino, onde o cirurgião manobra para localizar e expor o intestino delgado.



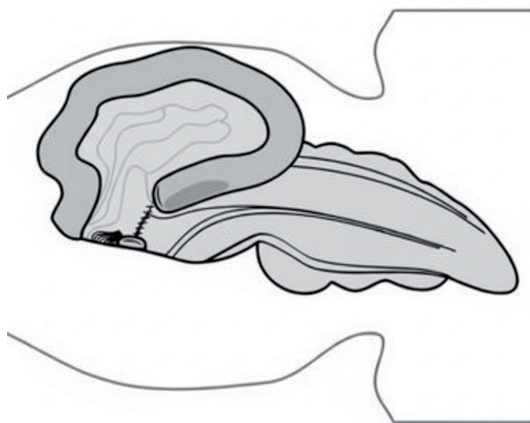
Fonte: White, N. A.; Moore, J. M.; Mair, T. S. **The Equine Acute Abdomen** 2 ed. Jackson: Tenton New Media, 2008 Kindle Edition.

É correto afirmar que a sequência que apresenta os nomes das estruturas anatômicas empunhadas, respectivamente, pelas mãos esquerda e direita do cirurgião é:

- a) cólon ventral direito / sua ténia medial.
- b) cólon ventral esquerdo / sua ténia lateral.
- c) cólon dorsal direito / ligamento cecocólico.
- d) ceco / ligamento ileocecal.
- e) ceco / ligamento cecocólico.

QUESTÃO 40

A ilustração a seguir representa, à semelhança da figura da questão anterior, alças intestinais expostas por celiotomia mediana de equino em decúbito dorsal, com o crânio voltado para o lado esquerdo da figura. O esquema se refere a um procedimento cirúrgico indicado para obstruções estranguladas da porção aboral do intestino delgado de equinos.



Fonte: White, N. A.; Moore, J. M.; Mair, T. S. **The Equine Acute Abdomen** 2 ed. Jackson: Tenton New Media, 2008 Kindle Edition.

Nesse sentido, a denominação correta do procedimento representado na figura é

- a) jejunostomia.
- b) ileostomia.
- c) jejunocecostomia.
- d) jejunocolostomia.
- e) ileocolostomia.

QUESTÃO 41

A laparotomia exploratória em estação é um procedimento corriqueiro para diagnóstico e tratamento de afecções do trato gastrointestinal de bovinos.

A estrutura anatômica que **NÃO** pode ser diretamente palpada em uma laparotomia padrão em bovino adulto, com acesso pelo antímero esquerdo, é

- a) corpo de ceco.
- b) colón espiral.
- c) duodeno.
- d) abomaso.
- e) omaso.

QUESTÃO 42

Corpos estranhos ruminais são frequentes, podendo afetar gravemente a saúde e o bem-estar dos bovinos acometidos.

A esse respeito, informe se é verdadeiro (V) ou falso (F) o que se afirma.

- () A maioria dos corpos estranhos ingeridos por bovinos não penetra a parede dos pré-estômagos, podendo permanecer no rúmen ou ser eliminada pelas fezes.
- () Um bovino com reticuloperitonite em fase aguda tende comumente a se manter em estação com os membros torácicos mais elevados, emitir gemido ao se deitar e apresentar marcha rígida com cotovelos abduzidos e abdômen retraído, além de ter febre e expressiva redução da atividade ruminal.
- () Com a evolução para a fase crônica, que começa com uma semana, o comportamento e a função gastrointestinal voltam quase à normalidade, contudo o animal apresenta apetite seletivo para forragens.
- () Sessenta por cento das perfurações reticulares se recuperam completamente de forma espontânea, 30% permanecem como áreas localizadas de peritonite crônica e 10% desenvolvem sequelas graves.
- () Quando o corpo estranho atravessa o diafragma e atinge o pericárdio, ocorrem sinais de insuficiência cardíaca congestiva; contudo, tais sinais regredem rapidamente com a administração de antibióticos de amplo espectro.

De acordo com as afirmações, a sequência correta é:

- a) V, V, F, V, F.
- b) F, V, V, F, F.
- c) F, F, V, V, V.
- d) V, V, V, F, F.
- e) V, F, F, V, V.

QUESTÃO 43

As cirurgias do trato genital de vacas leiteiras são procedimentos frequentes na rotina do médico veterinário.

Associe corretamente o procedimento ao respectivo padrão de sutura específico para o caso.

PROCEDIMENTOS

1. Cesariana
2. Prolapso vaginal
3. Laceração perineal de terceiro grau

PADRÕES DE SUTURA

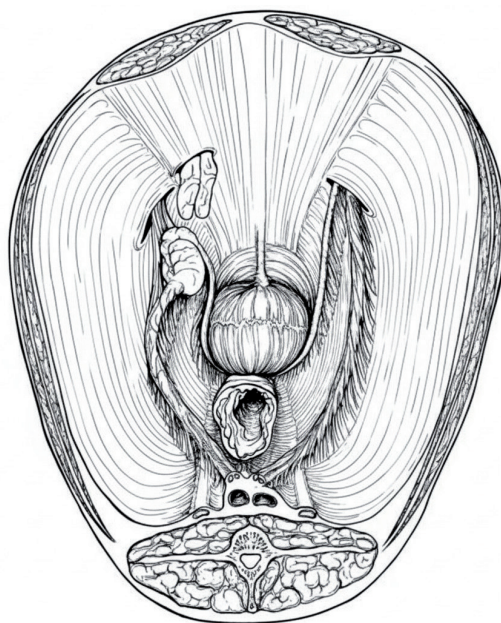
- () Bühner.
- () Lembert modificada.
- () Utrecht.

A sequência correta para essa associação é:

- a) 1, 2, 3.
- b) 1, 3, 2.
- c) 2, 3, 1.
- d) 2, 1, 3.
- e) 3, 2, 1.

QUESTÃO 44

O criptorquidismo é condição comum em equinos, que pode ser abordada por várias técnicas cirúrgicas. A ilustração a seguir demonstra um corte transversal do terço caudal da cavidade peritoneal de um cavalo em decúbito dorsal, onde se observa o testículo direito, sustentado pelo ligamento da cauda do epidídimo, sendo explorado por dois dedos de um cirurgião já inseridos na cavidade.



Fonte: Auer, J. A.; Stick, J. A. **Equine surgery**. 5 ed. St. Louis: Elsevier Saunders, 2019. 1896 p.

Nesse sentido, é correto afirmar que a denominação do acesso cirúrgico, referente ao procedimento representado na figura, é

- a) inguinal.
- b) parainguinal.
- c) mediano.
- d) paramediano.
- e) parapúbico.

QUESTÃO 45

A urovagina é um achado frequente em éguas multíparas com baixo escore corporal, que pode ser tratada cirurgicamente por meio de técnicas de extensão caudal da uretra.

Associe corretamente o tipo de técnica cirúrgica a sua respectiva característica.

TÉCNICAS

1. Técnica de Shires.
2. Técnica de Brown.
3. Técnica de Mckinnon.

CARACTERÍSTICAS

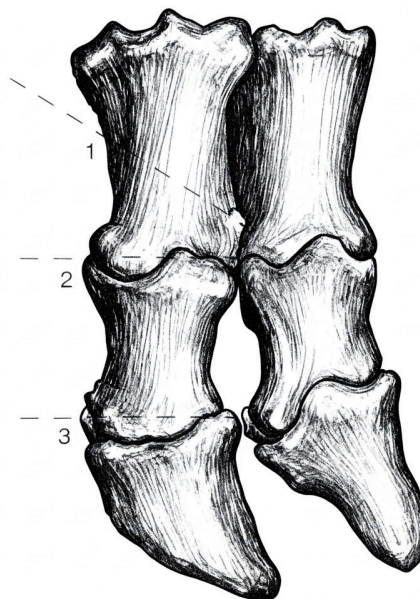
- () Semelhante à técnica original, contudo mais fácil e rápida de ser executada.
- () Produz túnel de extensão de maior calibre e resistência que as demais.
- () Pioneira na realização de extensão caudal da uretra.

A sequência correta para essa associação é:

- a) 1, 2, 3.
- b) 1, 3, 2.
- c) 2, 3, 1.
- d) 2, 1, 3.
- e) 3, 2, 1.

QUESTÃO 46

A ilustração a seguir demonstra as falanges de um bovino adulto, com linhas tracejadas que indicam planos de referência para a cirurgia de amputação.



Fonte: Weaver, A.D.; St Jean, D.; Steiner A. **Bovine Surgery and Lameness**, 2 ed..Oxford: Blackwell, 2005. 269 p.

A esse respeito, avalie a ilustração apresentada juntamente com as afirmações a seguir.

- I- A amputação de falange é indicada para casos de osteomielite do sesamoide proximal.
- II- A cirurgia promove rápido alívio da dor e os animais retornam à produção de leite em curto prazo.
- III- A maioria das vacas submetidas à amputação de dígito se mantém produtiva por 36 meses.
- IV- A amputação através da falange proximal (linha tracejada 1) é vantajosa sobre as demais por aumentar a chance de remoção de todo o tecido infectado.
- V- A amputação distal à coroa do casco (linha tracejada 3) possui a vantagem de possibilitar o crescimento de novo estojo córneo, que será útil para proteger o coto amputado.

Está correto **apenas** o que se afirma em

- a) I, III e IV.
- b) I, III e V.
- c) II, III e V.
- d) I, II e IV.
- e) II, IV e V.

QUESTÃO 47

Informe se é verdadeiro (V) ou falso (F) o que se afirma a respeito de um quadro de uroperitônio que se desenvolve em potros neonatos devido à ruptura da bexiga durante o parto.

- () Essa ocorrência é praticamente exclusiva de potros machos.
- () A explicação mais aceita para tal se relaciona com a presença de válvulas uretrais em machos.
- () As rupturas ocorrem normalmente na superfície ventral, medindo de 2 a 5 cm.
- () Potros acometidos se apresentam sadios e mamam normalmente nas primeiras 24 a 48 horas.
- () O tratamento é cirúrgico, mas só pode ser implementado após o controle da hipercalemia.

De acordo com as afirmações, a sequência correta é:

- a) V, F, F, V, V.
- b) F, V, V, F, F.
- c) F, V, F, V, F.
- d) V, V, V, F, F.
- e) V, F, F, F, V.

QUESTÃO 48

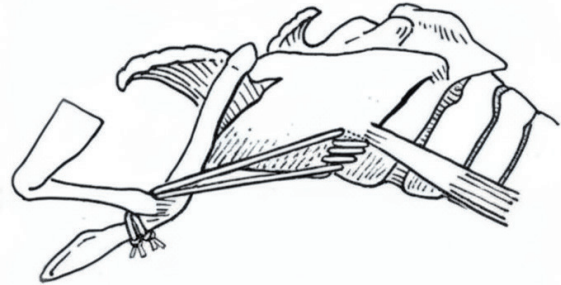
A traqueostomia é, frequentemente, um procedimento de emergência. Em bovinos, a presença de dispneia progressiva, estridor e cianose, mesmo que leve, são os principais indicativos de sua necessidade.

Dentre os motivos relacionadas para indicação dessa cirurgia em bovinos, é correto afirmar que o de maior prevalência é

- a) neoplasia faringolaríngea.
- b) abscesso retrofaríngeo.
- c) corpo estranho no trato respiratório superior.
- d) laringoespasma persistente.
- e) laringite necrótica e purulenta.

QUESTÃO 49

A ilustração a seguir demonstra um procedimento cirúrgico que vem sendo utilizado para disfunção de vias aéreas superiores em equinos.



Fonte: Auer, J. A.; Stick, J. A. **Equine surgery**. 5 ed. St. Louis: Elsevier Saunders, 2019.

Para qual afecção essa técnica foi desenvolvida?

- a) Colapso faríngeo rostral.
- b) Colapso nasofaríngeo.
- c) Deslocamento dorsal do palato mole.
- d) Hemiplegia laríngea.
- e) Condropatia da aritenóide.

QUESTÃO 50

Sobre cirurgias da cabeça em cavalos, associe corretamente a estrutura anatômica ao respectivo tipo de afecção que a acomete de forma característica.

ESTRUTURAS ANATÔMICAS

1. Narina
2. Etmoide
3. Bolsa gutural

AFECÇÕES

- () Timpanismo.
- () Hematoma.
- () Cisto.

A sequência correta para essa associação é:

- a) 3, 2, 1.
- b) 3, 1, 2.
- c) 2, 3, 1.
- d) 1, 2, 3.
- e) 1, 3, 2.

CONCURSO PÚBLICO PROFESSOR DO ENSINO BÁSICO, TÉCNICO E TECNOLÓGICO – PEBTT

GABARITO (RASCUNHO)

LÍNGUA PORTUGUESA

01	A	B	C	D	E
02	A	B	C	D	E
03	A	B	C	D	E
04	A	B	C	D	E
05	A	B	C	D	E
06	A	B	C	D	E
07	A	B	C	D	E

INFORMÁTICA BÁSICA

08	A	B	C	D	E
09	A	B	C	D	E
10	A	B	C	D	E
11	A	B	C	D	E
12	A	B	C	D	E
13	A	B	C	D	E

LEGISLAÇÃO APLICADA AO SERVIÇO PÚBLICO

14	A	B	C	D	E
15	A	B	C	D	E
16	A	B	C	D	E
17	A	B	C	D	E
18	A	B	C	D	E
19	A	B	C	D	E

DIDÁTICA

20	A	B	C	D	E
21	A	B	C	D	E
22	A	B	C	D	E
23	A	B	C	D	E
24	A	B	C	D	E
25	A	B	C	D	E

CONHECIMENTOS ESPECÍFICOS

26	A	B	C	D	E
27	A	B	C	D	E
28	A	B	C	D	E
29	A	B	C	D	E
30	A	B	C	D	E
31	A	B	C	D	E
32	A	B	C	D	E
33	A	B	C	D	E
34	A	B	C	D	E
35	A	B	C	D	E
36	A	B	C	D	E
37	A	B	C	D	E
38	A	B	C	D	E
39	A	B	C	D	E
40	A	B	C	D	E
41	A	B	C	D	E
42	A	B	C	D	E
43	A	B	C	D	E
44	A	B	C	D	E
45	A	B	C	D	E
46	A	B	C	D	E
47	A	B	C	D	E
48	A	B	C	D	E
49	A	B	C	D	E
50	A	B	C	D	E

ATENÇÃO:
AGUARDE AUTORIZAÇÃO
PARA VIRAR O CADERNO DE PROVA.